

LBRIS

We know
books



Eduard Dăncilă • Ioan Dăncilă

Matematică și explorarea mediului

clasa I

peste 450 de probleme și exerciții

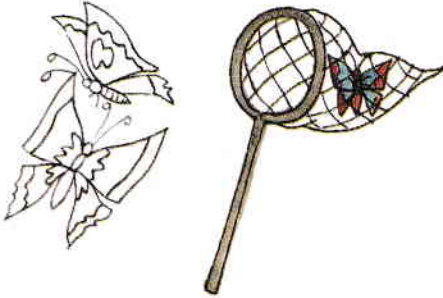
40 de teste-grilă

Ghidul părintelui

Ediția a III-a

Stimați părinți.....	4
Competențele dobândite la sfârșitul clasei I	5
Interior, exterior	7
Vertical, orizontal, oblic.....	8
Numerele naturale de la 0 la 10	9
Adunarea numerelor naturale în centrul 0 – 10.....	11
Scăderea numerelor naturale în centrul 0 – 10.....	14
Adunarea și scăderea numerelor naturale în centrul 0 – 10.....	17
Numerele naturale de la 0 la 31	19
Adunarea și scăderea numerelor naturale în centrul 0 – 31 fără trecere peste ordin	22
Adunarea și scăderea numerelor naturale în centrul 0 – 31 cu trecere peste ordin	26
Aflarea unui număr necunoscut dintr-o relație de tipul $? \pm a = b$	30
Elemente intuitive de geometrie.....	34
Numerele naturale de la 0 la 100.....	38
Adunarea și scăderea numerelor naturale în centrul 0 – 100 fără trecere peste ordin.....	48
Adunarea și scăderea numerelor naturale în centrul 0 – 100 cu trecere peste ordin	53
Compunerea de probleme	58
Măsurarea lungimilor.....	61
Măsurarea capacităților.....	64
Ora, minutul	66
Ziua, săptămâna, luna, anul.....	68
Monede și bancnote	69
Apa în natură.....	71
Plante și animale.....	73
Corpul omenesc.....	75
Soarele.....	77
Căderea liberă a corpurilor	78
Forme de energie, transfer de energie	79
Producerea și propagarea sunetelor	80
Probleme și exerciții recapitulative.....	81
Teste-grilă.....	86
Răspunsuri la testele-grilă.....	91
Bibliografie.....	93
Ghidul părintelui.....	97

1. Colorează numai fluturii din **exteriorul** plasei.



2. Cum mai sunt numite organele ficat, stomac, rinichi, plămân, inimă?



Organe


De ce?

.....

3. Reprezintă situația piticilor din desen.





4. Trasează un contur astfel încât  să fie în **interior**, iar  în exteriorul lui.



5. Pune în interiorul bolului numai bilele cu numere de o cifră.


Completează apoi propoziția:

În interior vor fi  bile.




Vertical, orizontal, oblic

1. Observă. Trasează apoi sub fiecare desen câte 3 liniuțe care au aceeași poziție cu cea a bunei camionului.




2. Leagă fiecare obiect de poziția lui firească indicată de săgeți.




3. Desenează sub fiecare ghicitoare răspunsul.



a) Piatră mare, piatră mică
Pe ce direcție pică?



b) Nu sunt nici orizontală,
Dar nu sunt nici verticală.



1. Continuă să legi.



2. Observă și completează.

1	3	5		
---	---	---	--	--

2	4	6		
---	---	---	--	--

10	9	8	7						
----	---	---	---	--	--	--	--	--	--



3. Completează cu numere potrivite. Săgeata indică un număr mai mare.

5	→		→	7
---	---	--	---	---


8	→		→	10
---	---	--	---	----

7	→		→	9
---	---	--	---	---

4	→		→	6
---	---	--	---	---

6	→		→	8
---	---	--	---	---

4. Observă și completează.



POT SĂ
CITESC![®]
și să scriu

nivelul
1

Corbul și vulpea

după Esop

Poveste și activități pentru
deprinderea cititului și a scrisului

PICȚIONAR



corb



creangă



copac



pădure



plisc



cașcaval



scorbură



aripi



scrisori



cetate



șoarece



nuci



drum



pasăre



pene



bufniță



vultur



vrabie



vulpe



găină



soare



bot



pernă



tufă



urs



zmeură



lup



mistreț












vânător










tolbă



Într-o zi, un  stătea pe  unui
 din . Ținea  strânse. În 
avea o bucată de . Ar fi putut să
ascundă  în . Dar nu se temea
de nimeni.



De unde avea, oare,  ? Poate
dusese  dintr-o  în alta și
fusesse răsplătit. Poate îl primise de
la un  în schimbul unor  . Sau
poate găsisse  pe  .